

■ 次の牌姿の点数を答えなさい

(各 1 点)

/16

※ルールは日本プロ麻雀連盟公式ルールとする。ドラはないものとする。



			リーチなし	リーチあり
東場	親 (東家)	ロンアガリ		
		ツモアガリ	オール	オール
	子 (南家)	ロンアガリ		
		ツモアガリ	,	,
南場	親 (東家)	ロンアガリ		
		ツモアガリ	オール	オール
	子 (南家)	ロンアガリ		
		ツモアガリ	,	,

■ 次の牌姿の点数を答えなさい。東 1 局 子は南家とする。ドラはないものとする。 (各 1 点)

/24



親ツモ	オール	親ロン	子ツモ	,	子ロン
-----	-----	-----	-----	---	-----



親ツモ	オール	親ロン	子ツモ	,	子ロン
-----	-----	-----	-----	---	-----




親ツモ	オール	親ロン	子ツモ	,	子ロン
-----	-----	-----	-----	---	-----



親ツモ	オール	親ロン	子ツモ	,	子ロン
-----	-----	-----	-----	---	-----



親ツモ	オール	親ロン	子ツモ	,	子ロン
-----	-----	-----	-----	---	-----




親ツモ	オール	親ロン	子ツモ	,	子ロン
-----	-----	-----	-----	---	-----

※答えは数の小さいものから順に記入すること ※自分で4枚持っている牌は待ちには含まない

■ 次の牌姿の時、待ちとなる牌を全て答えなさい

(各2点)

/18



1	
2	
3	
4	
5	
6	
7	
8	
9	

■ 次の牌姿はイーシャンテンである。

(切る牌2点・待ち2点)

/12

以下のツモの時に何を切れば一番待ちの種類が多いか答えなさい。また、その待ちも答えなさい。



ツモ	打	
	打	
ツモ	打	
	打	
ツモ	打	
	打	

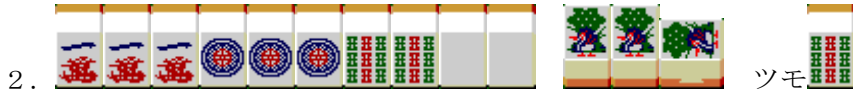
■1.以下のアガリ形の役を漢字で答えなさい。

(各 1 点)

/8



役 \_\_\_\_\_



役 \_\_\_\_\_

■2.以下はオーラスの点数状況である。各家がトップとなる条件を答えなさい。

(各 1 点)

/12

南 4 局 1 本場 供託 1000 点





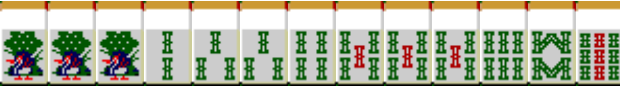
東家 38,800 点    南家 19,900 点    西家 25,800 点    北家 34,500 点

南家	東家から	西家から	北家から	ツモアガリ
西家	東家から	南家から	北家から	ツモアガリ
北家	東家から	南家から	西家から	ツモアガリ

■3.以下の牌姿がテンパイする牌の種類と枚数を答えなさい。

(各 2 点)

/10

1.  \_\_\_\_\_ 種 \_\_\_\_\_ 牌
2.  \_\_\_\_\_ 種 \_\_\_\_\_ 牌
3.  \_\_\_\_\_ 種 \_\_\_\_\_ 牌
4.  \_\_\_\_\_ 種 \_\_\_\_\_ 牌
5.  \_\_\_\_\_ 種 \_\_\_\_\_ 牌

■次の牌姿の点数を答えなさい

(各1点)

/16

※ルールは日本プロ麻雀連盟公式ルールとする。ドラはないものとする。



			リーチなし	リーチあり
東場	親 (東家)	ロンアガリ	2400	4800
		ツモアガリ	1600オール	3200オール
	子 (南家)	ロンアガリ	3200	6400
		ツモアガリ	1300, 2600	2000, 4000
南場	親 (東家)	ロンアガリ	4800	9600
		ツモアガリ	2600オール	4000オール
	子 (南家)	ロンアガリ	6400	8000
		ツモアガリ	2000, 4000	2000, 4000

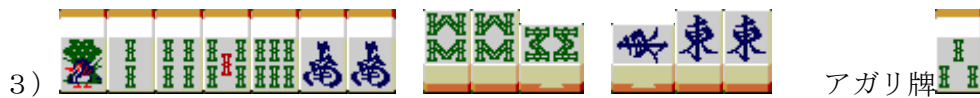
■次の牌姿の点数を答えなさい。東1局 子は南家とする。ドラはないものとする。 (各1点) /24




親ツモ	2600 オール	親ロン	5800	子ツモ	1000, 2000	子ロン	2600
-----	----------	-----	------	-----	------------	-----	------



親ツモ	3200 オール	親ロン	4800	子ツモ	1600, 3200	子ロン	3200
-----	----------	-----	------	-----	------------	-----	------



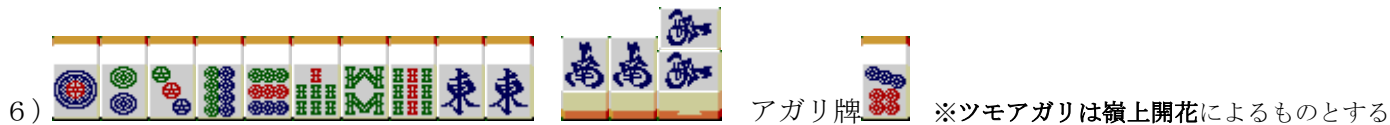
親ツモ	3900 オール	親ロン	11600	子ツモ	1300, 2600	子ロン	3900
-----	----------	-----	-------	-----	------------	-----	------



親ツモ	8000 オール	親ロン	24000	子ツモ	6000, 12000	子ロン	24000
-----	----------	-----	-------	-----	-------------	-----	-------



親ツモ	2300 オール	親ロン	3900	子ツモ	2000, 4000	子ロン	5200
-----	----------	-----	------	-----	------------	-----	------

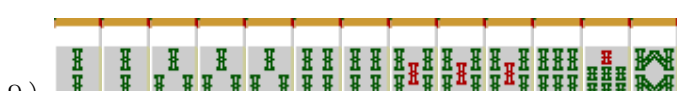
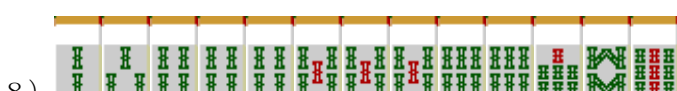
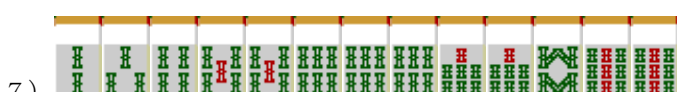
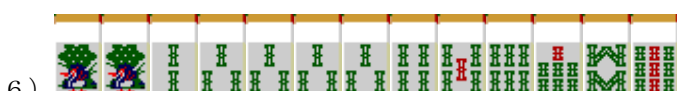
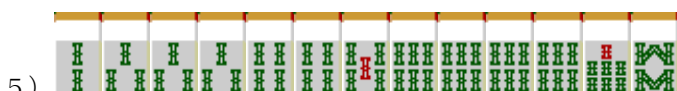
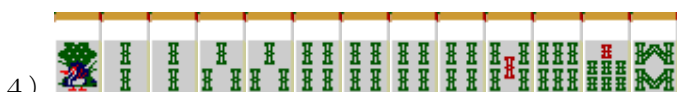
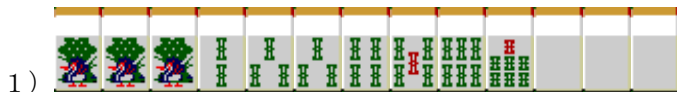


親ツモ	1600 オール	親ロン	2400	子ツモ	1300, 2600	子ロン	2600
-----	----------	-----	------	-----	------------	-----	------

※答えは数の小さいものから順に記入すること ※自分で4枚持っている牌は待ちには含まない

■ 次の牌姿の時、待ちとなる牌を全て答えなさい

(各2点) /18



1	2 3 5 8
2	3 5 6 8
3	1 2 3 4 5
4	2 3 5 6 8 9
5	3 9
6	1 2 4 7
7	1 4 7 8
8	1 2 4 5 6
9	1 2 3 4

■ 次の牌姿はイーシャンテンである。

(切る牌2点・待ち2点)

/12

以下のツモの時に何を切れば一番待ち牌が多いか答えなさい。また、その待ちも答えなさい。



ツモ 	打 6	1 4 5
ツモ 	打 1	4 5 7 8
ツモ 	打 1	4 6 7 9

■1.以下のアガリ形の役を漢字で答えなさい。 (各1点) /8



役 \_\_\_\_\_ 立直、平和、二盃口、清一色 \_\_\_\_\_



役 \_\_\_\_\_ 混老頭、対々和、三暗刻、三色同刻 \_\_\_\_\_

■2.以下はオーラスの点数状況である。各家がトップとなる条件を答えなさい。 (各1点) /12

南4局 1本場 供託1000点

東家 38,800点      南家 19,900点      西家 25,800点      北家 34,500点

南家	東家から 16000	西家から 24000	北家から 24000	ツモアガリ 3000・6000
西家	東家から 7700	南家から 12000	北家から 12000	ツモアガリ 2000・3900
北家	東家から 1600	南家から 3200	西家から 3200	ツモアガリ 500・1000

■3.以下の牌姿がテンパイする牌の種類と枚数を答えなさい。 (各2点) /10

